



UREJANJE DECIMALNIH ŠTEVIL


Rešene naloge oddaj v spletno učilnico -

<https://ucilnice.arnes.si/course/view.php?id=56538§ion=1&singlesec=1>


Navodila:

- Rešuj v zvezek.
- 1. Nalogo ne preriši, zapiši samo vrednosti- npr: A(0,2)
- pri 4. nalogi izpiši samo pravilne trditve.
- Desetiški ulomek zapiši, kot decimalno število.

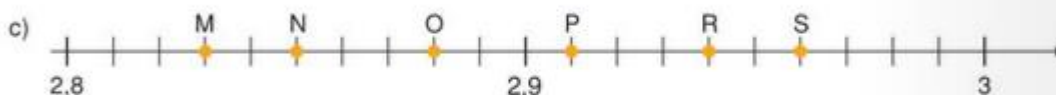
1 Odcitaj števila, ki so označena na številski premici in jih kot decimalno število zapiši na črto.




A _____ B _____ C _____ D _____ E _____ F _____



G _____ H _____ I _____ J _____ K _____ L _____



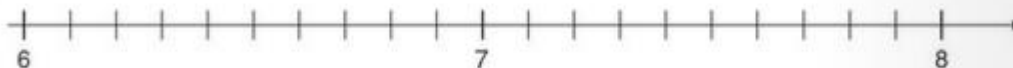
M _____ N _____ O _____ P _____ R _____ S _____



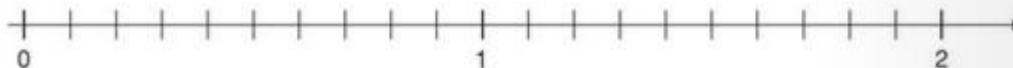
Š _____ T _____ U _____ V _____ Z _____ Ž _____

2 Na številski premici označi točke, ki predstavljajo dana decimalna števila.


a) 6,4 6,7 7,1 7,5



b) 0,1 0,5 0,9 1,2



c) 3,15 3,18 3,24 3,29



3 Decimalni števili primerjaj po velikosti. Vstavi znak <, >, =.

a) 4,3 6,3

b) 32,8 16,402

c) 3,2 0,9

č) 4,8 4,6

d) 0,5 0,17

e) 0,43 0,4

f) 8,32 8,324

g) 0,08 0,8

h) $2\frac{3}{10}$ 2,3

i) $3\frac{42}{100}$ 34,2

4 Obkroži pravilne trditve.

a) $2,3 < 12,3$

b) $4,2 > 4,18$

c) $0,35 > \frac{35}{10}$

č) $\frac{312}{100} > 31,02$

d) $0,84 < 0,8$

e) $6,12 > 6,8$

f) $4,335 < 4,353$

g) $0,018 < 0,02$

5 Decimalna števila uredi po velikosti. Začni z najmanjšim.

a) 0,012 1,2 0,12 1,12 0,02

b) 3,64 8,3 3,6 8,215 3,632

c) 42,6 24,38 2,438 2,54 42,734 24,8

č) 0,015 0,23 0,08 0,812 0,0752

d) $\frac{3}{100}$ 0,3 0,003 $\frac{3}{1}$ $\frac{33}{10}$
